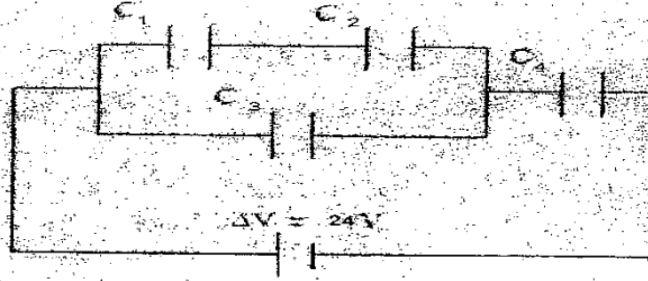




الثاني

- س 1 : في الشكل أدناه ، احسب مقدار (1) السعة المكافئة للمجموعة (2) الشحنة المخزنة في أي من صفيحتي كل متسعة (3) الطاقة المخزنة في المجال الكهربائي بين صفيحتي المتسعة C_4 ، علماً أن : $C_1 = 3 \mu F$ ، $C_2 = 6 \mu F$ ، $C_3 = 16 \mu F$ ، $C_4 = 9 \mu F$. وأن فرق الجهد الكلي $\Delta V = 24V$



B- اختر الإجابة الصحيحة لاثنتين مما يأتي :

- (1) عند مضاعفة شدة الضوء الساقط بتردد معين مؤثر في سطح معدن معين يتضاعف مقدار : (الطاقة الحركية العظمى للإلكترونات الضوئية المنبعثة ، زخم الفوتون ، جهد الإيقاف ، تيار الإشعاع)
- (2) يحدث الفعل الليزري عند حدوث انبعاث : (تلقائي ومحفز ، محفز وتلقائي ، محفز فقط ، تلقائي فقط) .
- (3) تتحلل نواة نظير البولونيوم ($^{218}_{84}Po$) تلقائياً إلى نواة نظير الرصاص ($^{214}_{82}Pb$) بواسطة انحلال : (كما ، بيتا السالبة ، بيتا الموجبة ، الفا) .

س 2 : A- ملف لمولد نصف قطره $2cm$ وعدد لفاته 100 لفة يدور داخل مجال مغناطيسي منتظم كثافة فيضه $(\frac{1}{2\pi}T)$ وكان أعظم مقدار للفولطية المحتثة على طرفي الملف $20V$ ، والمقدار الأعظم للتيار المنساب في الحمل $0.8A$ ، ما مقدار ؟ (1) السرعة الزاوية التي تدور بها نواة المولد . (2) القدرة العظمى للمجهزة للحمل المربوط مع المولد .

B- أجب عن اثنتين مما يأتي :

- (1) يقل عامل النوعية في الدائرة الرنينية المتوالية الربط كلما كانت مقاومة هذه الدائرة كبيرة المقدار ، علل ذلك .
- (2) ما فرضيتا أينشتاين في النظرية النسبية الخاصة ؟
- (3) وضح كيف يمكن الحصول على التوزيع المعكوس ؟

س 3 : A- أشرح نشاطاً توضح فيه استقطاب موجات الضوء .

B- أجب عن اثنتين مما يأتي :

- (1) ربطت المتسعة C_1 بين قطبي بطارية ، وضح ماذا يحصل لمقدار كل من فرق الجهد بين صفيحتي المتسعة C_1 والشحنة المخزنة فيها لو ربطت متسعة أخرى C_2 غير مشحونة مع المتسعة C_1 (مع بقاء البطارية مربوطة في الدائرة) وكانت طريقة الربط على التوازي مع C_1 ؟
- (2) هل كل الأسلاك الموصلة التي تحمل تياراً تشع موجات كهرومغناطيسية ؟ وضح ذلك .
- (3) ما الظراتك التي تتحلل بها بعض النوى تلقائياً بانحلال بيتا ؟

س 4 : A- سقط ضوء تردده $3 \times 10^{15} Hz$ على سطح مادة فإذا كان تردد العتبة للمادة $0.25 \times 10^{15} Hz$ ، فانبعثت الكترونات ضوئية من السطح احسب مقدار :

- (1) الانطلاق الأعظم للإلكترونات الضوئية المنبعثة من السطح
 - (2) طول موجة دي بروكي المرافقة للإلكترونات الضوئية المنبعثة ذوات الانطلاق الأعظم .
- B- هل يمكن ؟ وضح ذلك (الإجابة عن اثنتين) : (1) أن تستعمل مقاييس التيار المستمر في دوائر التيار المتناوب (2) أن تتأثر الأشعة السينية بالمجالات الكهربائية والمغناطيسية (3) توليد تيار محتث متناوب بواسطة أوتار الفيثار الكهربائي .

س 5 : A- مصدر للفولطية المتناوبة تردده $50Hz$ ، ربط بين قطبيه على التوالي متسعة سعتها $(\frac{1}{6000}F)$ وملف معامل حثه

الذاتي $\frac{1}{5\pi}H$ ومقاومته 30Ω وكان مقدار التيار المار في الدائرة $2A$ ، جد مقدار :

- (1) الممانعة الكلية ومقدار فرق جهد المصدر . (2) فرق الجهد عبر كل من المقاومة والمحث والمتسعة .
- (3) زاوية فرق الطور بين متجه الطور للفولطية الكلية ومتجه الطور للتيار . ما خصائص هذه الدائرة ؟ ارسم مخطط الممانعة

B- علام يعتمد ؟ (أجب عن اثنتين)

- (1) مقدار القوة الدافعة الكهربائية الحركية المتولدة على طرفي ساق موصلة تتحرك داخل مجال مغناطيسي منتظم .
- (2) التيار المنساب في دائرة الثنائي البلوري pn المتحسس للضوء .
- (3) مقدار الزيادة في الطول الموجي لفوتونات الأشعة السينية المستطارة بواسطة الإلكترونات الحرة .

س 6 : A- في دائرة الترانزستور ذي الباعث المشترك ، إذا كان تيار الباعث يساوي $I_E = 0.4mA$ وتيار القاعدة $I_B = 40 \mu A$ ومقاومة الدخول $R_{in} = 100\Omega$ ومقاومة الخروج $R_{out} = 50K\Omega$ ، احسب مقدار :

(1) ربح التيار α . (2) ربح الفولطية A_v .

B- ما الفائدة العملية لاثنتين مما يأتي ؟ (1) المتسعة الموضوعه في اللاقطه الصوتية .

(2) مولد التيار المتناوب ذي الأطوار الثلاثة .

(3) من تأريض أحد أقطاب الهوائي في عملية إرسال وتسلم الموجات الكهرومغناطيسية .



الدور / ١. لثمايكي.

جوبة النموذجية للدراسة الاعدادية للعام الدراسي ٢٠١٧ / ٢٠١٦

الفرع / ١. بتسليف

المادة / (لغويات)

جواب السؤال (الاول) فرع (A)

الدرجة	الجواب النموذجي	الصفحة	سؤال
	<p>$C_1 = 3mf$ $C_2 = 6mf$ $C_3 = 16mf$ $C_4 = 9mf$ $DV = 24V$</p>	43	سؤال
2	$\frac{1}{C_{12}} = \frac{1}{C_1} + \frac{1}{C_2}$ <p>(رابط توأمة)</p> $\frac{1}{C_{12}} = \frac{1}{3} + \frac{1}{6} \Rightarrow \frac{1}{C_{12}} = \frac{2+1}{6}$ $\therefore \frac{1}{C_{12}} = \frac{3}{6} \Rightarrow \frac{1}{C_{12}} = \frac{1}{2}$ $\therefore C_{12} = 2mf$ <p>أو باركان تطيف لثمايكي</p> $C_{12} = \frac{C_1 \cdot C_2}{C_1 + C_2} = \frac{3 \times 6}{3 + 6} = \frac{18}{9} = 2mf$		

الدور / الثاني

لاجوبة النموذجية للدراسة الاعدادية للعام الدراسي ٢٠١٧ / ٢٠١٦

الفرع / البصريات

اسم المادة /
الفيزياء

جواب السؤال (الاول) فرع (A)

الدرجة	الجواب النموذجي	الصفحة	السؤال
2	<p>(ربط توازي) $C_{123} = C_{12} + C_3$ $= 2 + 16 \Rightarrow C_{123} = 18 \text{ Mf}$</p> <p>(ربط توازي) $\therefore \frac{1}{C_{eq}} = \frac{1}{C_{123}} + \frac{1}{C_4}$ $\frac{1}{C_{eq}} = \frac{1}{18} + \frac{1}{9} \Rightarrow$</p> <p>$\frac{1}{C_{eq}} = \frac{1+2}{18} = \frac{3}{18} = \frac{1}{6}$</p> <p>$\therefore C_{eq} = 6 \text{ Mf}$.</p> <p>أو بتطبيق لقانون $C_{eq} = \frac{C_{123} \cdot C_4}{C_{123} + C_4} = \frac{18 \times 9}{18 + 9} = \frac{162}{27}$</p> <p>$\therefore C_{eq} = 6 \text{ Mf}$.</p>		

الدور / ١٠. ل. س. ك. ح.

الاجوبة النموذجية للدراسة الاعدادية للعام الدراسي ١٦ / ٢٠١٧

الفرع / ١. ل. س. ك. ح.

اسم المادة / ا. ل. ك. ح. د. ع. ف. غ. ح. ط. ق. ر. س. ت. ث. ج. د. هـ.

جواب السؤال (الاول) فرع (A)

السؤال	الجواب النموذجي	المصنف
	$PE_4 = \frac{1}{2} Q_4 DV_4$ $= \frac{1}{2} \times 144 \times 16 \times 10^{-6}$ $= 1152 \times 10^{-6} \text{ joule}$ $PE_4 = \frac{1}{2} C_4 DV_4^2$ $PE_4 = \frac{1}{2} \frac{Q_4^2}{C_4}$	<p>اد ب السؤال العلاقة</p> <p>اد ب السؤال العلاقة</p>

3
م/١٢١٧

الاجوبة النموذجية للدراسة الاعدادية للعام الدراسي ١٦ / ٢٠ / ٢٠١٧

الدور / الثاني

الفرع / الهندسة

اسم المادة / (البيانات)

جواب السؤال (الاول) فرع (B)

الدرجة	الجواب النموذجي	المسئول	السؤال
	B - الاجابة عن زعين فقط		6 من 7 فرع
	(1) تيار شعاع	1998	7 فرع
	(2) تلاقى وحفر	2658	8 من 9 فرع
	(3) الفا	306	10 من 15 فرع
	كل فرع (5) درجات		

الدور / المصنف

الاجوبة النموذجية للدراسة الاعدادية للعام الدراسي ٢٠١٧ / ٢٠١٦

الفرع / التخصص

اسم المادة / ...

جواب السؤال (الشامى) فرع (A)

الدرجة	الجواب النموذجي	الصفحة	السؤال
5	<p>① $A = r^2 \pi = (2 \times 10^{-2})^2 \pi = 4 \times 10^{-4} \pi$</p> <p>$E_{max} = N A B \omega$</p> <p>$20 \leq 100 \times 4 \times 10^{-4} \pi \times \frac{1}{2\pi} \omega$</p> <p>$\omega = \frac{20}{2 \times 10^{-2}} = 10^3 \text{ rad/s}$</p>	١٩	ص ١٩
5	<p>② $P_{max} = I_{max} E_{max}$</p> <p>$\leq 0.8 \times 20 \leq 16 \text{ W}$</p>	٢٠	ص ٢٠

الدور / الثاني

الاجوبة النموذجية للدراسة الاعدادية للعام الدراسي 2017/2016

الفرع / التطبيقية

اسم المادة / الفيزياء.....

جواب السؤال (الثاني) فرع (ب)

السؤال	الصفحة	الجواب النموذجي	الدرجة
سؤال 3	119 ص	1- لأنه عندما تكون المقارعة في الدائرة كبيرة المعيار تجعل معنت القدرة المتوسطة واسمياً (مريضاً) فيكون عرض نطاق التردد الزاوي (5W) كبيراً $\frac{1}{c} = \frac{1}{a \cdot f}$	3
سؤال 9	27 ص	2- ان قوانين الفيزياء يجب ان تكون واحدة في جميع اطر الاسناد القصورية.	9
سؤال 8	27 ص	3- سرعة الضوء في الفراغ مقدار ثابت (3×10^8 m/s) في جميع اطر الاسناد القصورية بغض النظر عن سرعة المراقب او سرعة الكرت	8
سؤال 4	207 ص	4- اذا كان النظام الذري غير متزن حرارياً فان عدد الذرات في المستويات العليا للطاقة اقل مما في المستويات الواصلة للطاقة وهذا يخالف توزيع بولتزمان اي ان التوزيع في هذه الحالة يكون بشكل معكوس لذا تسمى هذه العملية بالتوزيع المعكوس والتي تزيد من احتمالية الانبعاث المحفز والنهي أساس توليد الليزر وتحصل عندما يكون هناك شدة ضغ كافية وتتحقق ذلك بوجود مستويات طاقة ذي عمر أطول نسبياً ويسمى بالمستوى شبه المستقر.	4

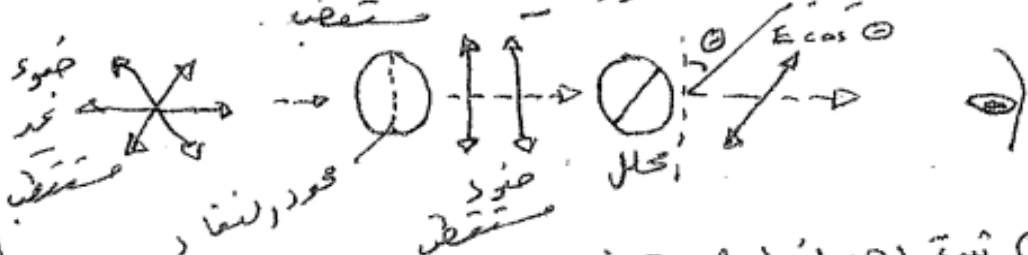
الإجابة / عن فرعين لكل فرع (5) درجة

الدور / الثاني
الفرع / الفيزياء

الاجوبة النموذجية للدراسة الإعدادية للعام الدراسي ٢٠١٧ / ٢٠١٦

اسم المادة / الفيزياء

جواب السؤال (الثالث) فرع (A)

الدرجة	الجواب النموذجي	السؤال
3	ادوات النشاط شريحتان من التورمالين ، مصدر ضوئي	
6	خطوات ١ ضد شريحة من التورمالين وضعها في طريق مصدر الضوء ٢ تم تدوير الشريحة حول المحور المار بمركزها واللهودي عليها ، ولديها هل يتغير مقدار الضوء النافذ	
3	خط متواكفتين من التورمالين 	
٦	ثبات احد الشريحتين ، دوران الشريحة الأخرى ببطء حول المحور المار باللهودي ، ولديها شدة الضوء النافذ	

الدور / الثاني

الاجوبة النموذجية للدراسة الاعدادية للعام الدراسي ٢٠١٧ / ٢٠١٧

الفرع / البيولوجي

اسم المادة /
الصفحة /

جواب السؤال (الثالث) فرع (B)

السؤال	الجواب النموذجي	الدرجة
	<p>وقد تساؤل لماذا تتغير مدة الاصابة عند تدوير السرعة الثاني مع العلم ان تركيب نفسه ان الضوء عند المنقطة هو موجات مستقيمة مرتب مجازا ولكن باكتساب زاوية كما انها جميعا ريلورة استوائية ترتيب فيها اجزائها شكل سلسلة حويصلة اولاً مع مرور الموجات الضوئية الا اذا كان مستوى اهتزازها محدود على خط السلسلة بينما تقوم بالاهتزاز في الموجات وهذه العملية تسمى الاستقطاب والمرجات الضوئية تسمى موجات ضوئية مستقطبة</p>	١٠

الدور / ١ / الثاني ...

الاجوبة النموذجية للدراسة الاعدادية للعام الدراسي ٢٠١٧ / ٢٠١٦

الفرع / ١ / لبتسيف

اسم المادة / لبتسيف

جواب السؤال (الثالث) فرع (B)

السؤال	الجواب النموذجي	الدرجة
	<p>الجواب بكمحمد <u>رعييف</u> / لكل فرع (٥) درجات</p> <p>① فرق الكهنايت الشمعة كالتة</p> <p>② كلا فقط التي تحمل نيار حسنا دبا</p> <p>③ الطرائق ٧٥ :-</p> <p>a - اخلاك بيتا الب b - اخلاك بيتا الكرهيب c - الاسر الاكتر دني</p> <p>ملاحظة :- اذا ذكر الطالب نقطة واحدة يعطى درجات تقطعتان يعطى ٤ درجات</p>	

الدور / المتاح

الاجوبة النموذجية للدراسة الاعدادية للعام الدراسي ٢٠١٧ / ٢٠١٦

الفرع / التطبيق

اسم المادة / الفيزياء حسابية...

جواب السؤال (البراهي) فرع (A)

الدرجة	الجواب النموذجي	المصنف	السؤال
٢ دقة	$\textcircled{1} KE_{\max} = hf - hf_0$ $= 6.63 \times 10^{-34} \times 3 \times 10^{15} - 6.63 \times 10^{-34} \times 0.25 \times 10^{15}$ $= 19.89 \times 10^{-19} - 1.66 \times 10^{-19}$ $KE = 18.23 \times 10^{-19} \text{ J}$ أو $hf = 6.63 \times 10^{-34} \times 3 \times 10^{15} = 19.89 \times 10^{-19} \text{ J}$ $hf_0 = 6.63 \times 10^{-34} \times 0.25 \times 10^{15} = 1.65 \times 10^{-19} \text{ J}$ $KE_{\max} = hf - hf_0$ $= 19.89 \times 10^{-19} - 1.65 \times 10^{-19}$ $KE_{\max} = 18.23 \times 10^{-19} \text{ J}$ $KE = \frac{1}{2} m v^2$ $18.23 \times 10^{-19} = \frac{1}{2} \times 9.11 \times 10^{-31} \times v^2$ $v^2 = \frac{2 \times 18.23 \times 10^{-19}}{9.11 \times 10^{-31}} = 4 \times 10^{12}$ $v = 2 \times 10^6 \text{ m/s}$	١٠٠ ص	عامة لكن فضل ٦

الدور / الثامن
 الفرع / التطبيق

الاجوبة النموذجية للدراسة الاعدادية للعام الدراسي ٢٠١٦ / ٢٠١٧
 اسم المادة / المصنوع حسب ر...

جواب السؤال (الرابع) فرع (A)

الدرجة	الجواب النموذجي	المسند	السؤال
	$\frac{1}{2} m v^2 = h f - h f_0$ $\frac{1}{2} 9.11 \times 10^{-31} v^2 = 6.63 \times 10^{-34} \times 3 \times 10^{15} - 6.63 \times 10^{-34} \times 0.25 \times 10^{15}$ $\frac{1}{2} 9.11 \times 10^{-31} v^2 = 18.23 \times 10^{-19}$ $v^2 = \frac{2 \times 18.23 \times 10^{-19}}{9.11 \times 10^{-31}} = 4 \times 10^{12}$ $v = 2 \times 10^6 \text{ m/s}$ $\lambda = \frac{h}{m v} = \frac{6.63 \times 10^{-34}}{9.11 \times 10^{-31} \times 2 \times 10^6}$ $= 0.364 \times 10^{-9} \text{ m}$ $= 0.364 \text{ nm}$		

٢
 درجة
 رده بكونه

الدور / الساتر
الفرع / التطبيق

لجوبة النموذجية للدراسة الاعدادية للعام الدراسي ٢٠١٧ / ٢٠١٦

المادة / ... الفيزياء ...

جواب السؤال (الرابع) فرع (B)

الدرجة	الجواب النموذجي	الصفحة	سؤال
٥ درجات	<p>١) كلا ، لا يمكن لأن مقاييس التيار المستمر (dc) تقيس المقدار المتوسط للتيار المتناوب ، لذا فإن مؤشرها يقف عند تدريج الصفر عند وضعها في دائرة التيار المتناوب .</p>	٩٦ ص	فضل ٣
٥ درجات	<p>كلا / ليس المقصود بالذات لكانت تقيس المؤشر عند سرعة كلا ، لأنها دقائق غير مستحوذ</p>	٩٤ ص	فضل ٨
٥ درجات	<p>٣- فقم يمكن حيث تتعقظ هذه الاوتار اثناء اهتزازها بوساطة ملفات سلكية تحتوي كل منها بأطرافها على مقناطيسية موصلة بمواضع مختلفة تحت الاوتار فيحدث تيار كهربائي .</p>	١١٩ ص	فضل ٥
	(الاجابة عن فرعين فقط)		

الدور / الثاني

الاجوبة النموذجية للدراسة الاعدادية للعام الدراسي ٢٠١٦ / ٢٠١٧

الفرع / الرياضيات

اسم المادة / الفيزياء

الدرجة	الجواب النموذجي	النصف	السؤال
١	<p>فرع (A) (س)</p> <p>جواب السؤال (س)</p> <p>① $Z^2 = R^2 + (X_L - X_C)^2$</p> <p>$X_L = 2\pi fL$</p> <p>$= 2\pi \times 50 \times \frac{1}{5\pi}$</p> <p>$= 20 \Omega$</p> <p>$X_C = \frac{1}{2\pi fC}$</p> <p>$= \frac{1}{2\pi \times 50 \times \frac{1}{6000\pi}}$</p> <p>$= 60 \Omega$</p> <p>$X = X_L - X_C = 20 - 60 = -40$</p> <p>$Z^2 = (30)^2 + (20 - 60)^2$</p> <p>$Z^2 = 900 + (-40)^2$</p> <p>$Z^2 = 900 + 1600$</p> <p>$Z^2 = 2500$ بجد، طريق</p> <p>$Z = 50 \Omega$</p> <p>$V_T = I \times Z$</p> <p>$V_T = 2 \times 50 = 100 \text{ V}$</p>	١٠٩ ص	شبه ٨ س

٤ درجات

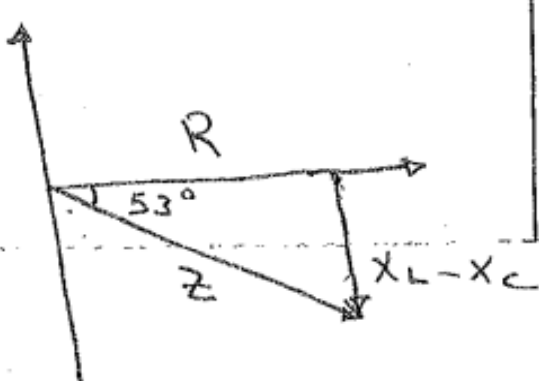
الدور / ١ / لبيباكي

الاجوبة النموذجية للدراسة الاحدائية للعام الدراسي ٢٠١٦ / ٢٠١٧

الفرع / ١ / لبيباكي

اسم المادة / ١ / لبيباكي

جواب السؤال (٥) فرع (A)

الدرجة	الجواب النموذجي	الصفحة	السؤال
٤ درجات	$V_R = I R$ $= 2 \times 30 = 60 \text{ V}$ $V_L = I X_L$ $= 2 \times 20 = 40 \text{ V}$ $V_C = I X_C$ $= 2 \times 60 = 120 \text{ V}$	٢	
٤ درجات	$\tan \phi = \frac{X_L - X_C}{R} = \frac{X}{R}$ $= \frac{20 - 60}{30} = -\frac{40}{30} = -\frac{4}{3}$ $\phi = -53^\circ$ $\cos \phi = \frac{R}{Z} = \frac{30}{50} = \frac{3}{5}$	٣	
	<p>$\phi = -53^\circ$</p> <p>دلالة إشارة سالبة لأن الدائرة خصائصها حثية</p> 		

الدور / الثاني

الاجوبة النموذجية للدراسة الاعدادية للعام الدراسي ٢٠١٦ / ٢٠١٧

الفرع / البيطري

اسم المادة / ... يعزينا ...

جواب السؤال (س) فرع (ب)			
الدرجة	الجواب النموذجي	النصف	السؤال
٥ درجات	<p>① سرعة التي يتحرك بها الماء</p> <p>② كثافة العنبر المضافي</p> <p>③ طول الماء</p> <p>④ وضعية الماء نسبة للعنبر المضافي</p> <p>ملاحظة: اذا ذكر ثلاثة نقاط يعطى درجة كاملة</p>	٢٦ ص	س ٦ الأضياء رقم ٨
٥ درجات	<p>⑤ مدة الضوء الساطع الملتصق</p>	٢٦ ص	س ٦ (د)
٥ درجات	<p>⑥ مقدار زاوية الانعكاس θ</p>	٢٦ ص	س ٦ الأضياء رقم ٦
الإجابة عن السؤال			

الدور / (البياني..)

الاجوبة النموذجية للدراسة الإعدادية للعام الدراسي ٢٠١٦ / ٢٠١٧

الفرع / (البياني..)

اسم المادة / (البياني..)

جواب السؤال (السادس)		فرع (B)	
السؤال	النص	الجواب النموذجي	الدرجة
(٧) ع	٢٤ ص	B- الاجابة على فرعين / لكل فرع (5) درجة ١- تحول الذبذبات، مما يملكه كل كهرمانية	
(2) ع	٢٥ ص	٢- اجهز تياراً حثاوباً ذات فتحة أكبر عن التيار الذي اجهزه بولد التيار الحثاوب الاهادي الكور .	
(٦) ع	١٣٨ ص	٣- سيكون هوائي اسكال اذ الاستقبال يلتصق بربع موجة .	

الدور /
الفرع /

جواب السؤال (السؤال) فرع (A)

السؤال	النص	الجواب النموذجي	الدور
9	232 ص	<p>① $I_E = I_B + I_C$ $\therefore I_C = I_E - I_B$ $= 0.4 \times 10^{-3} - 40 \times 10^{-6}$ $= 0.4 \times 10^{-3} - 0.04 \times 10^{-3}$ $\therefore I_C = 0.36 \times 10^{-3} \text{ A}$</p> <p>$\therefore \alpha = \frac{I_C}{I_B}$ $= \frac{0.36 \times 10^{-3}}{0.04 \times 10^{-3}} \Rightarrow \alpha = 9$</p> <p>② $\therefore A_V = \frac{V_{out}}{V_{in}} = \frac{I_C \times R_{out}}{I_B \times R_{in}}$ $\therefore A_V = \frac{0.36 \times 10^{-3} \times 50000}{0.04 \times 10^{-3} \times 100}$ $\therefore A_V = 9 \times 500 \Rightarrow A_V = 4500$</p>	5 ع.7
5	ع.7		5 ع.7